

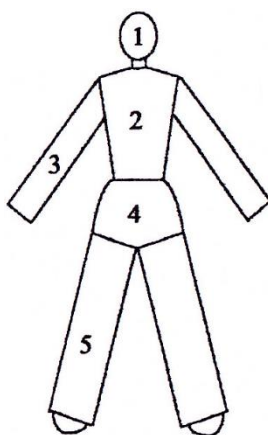


Modulul: _____
Numele și prenumele elevului: _____
Clasa: _____
Data: _____

FIȘĂ DE LUCRU

Constituirea tipurilor de produse din părți componente corespunzătoare părților corpului

1. Din punct de vedere anatomic, corpul uman este divizat în 5 părți principale, așa cum rezultă din figura de mai jos. Precizați care sunt acestea.




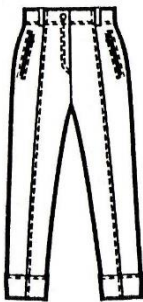



- 1 – _____
- 2 – _____
- 3 – _____
- 4 – _____
- 5 – _____

2. Stabiliți legătura dintre părțile principale ale corpului și modul în care acestea pot fi protejate de un anumit tip de produs sau o parte componentă a unui tip de produs.

- 1 – **gluga** ☛ protejează _____
- 2 – **vesta** ☛ protejează _____
- 3 – **mânețile** ☛ protejează _____
- 4 – **chiloții** ☛ protejează _____
- 5 – **pantaloul** ☛ protejează _____



3. Completați tabelul de mai jos specificând modul în care sunt constituite tipurile de produse din părți componente corespunzătoare părților corpului.

Reprezentarea grafică a produsului	Denumirea produsului	Părți componente	Părți de corp protejate
			
			
			
			
			



Reprezentarea grafică a produsului	Denumirea produsului	Părți componente	Părți de corp protejate
